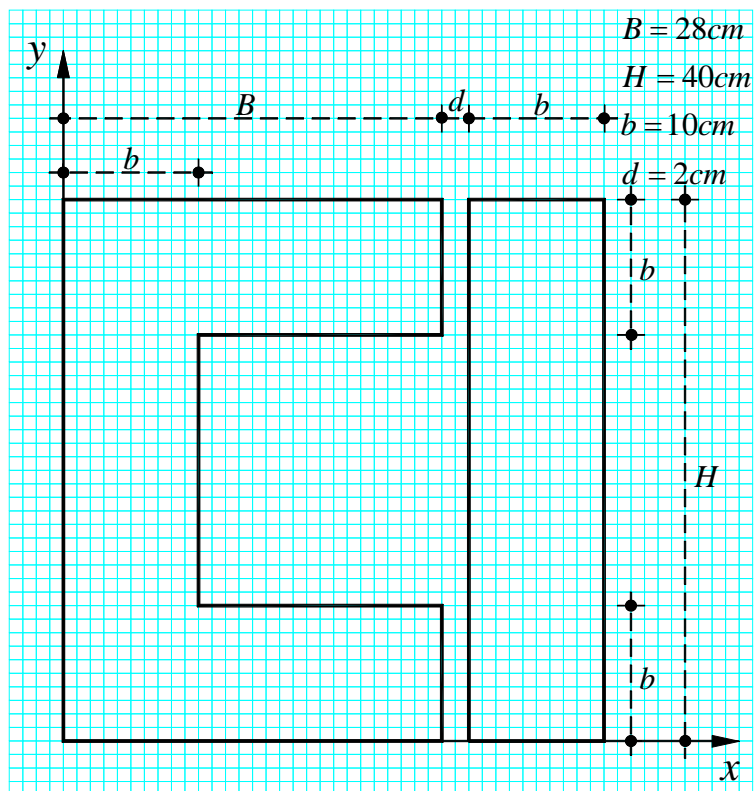


ESERCIZIO n.8

Data la sezione riportata in Figura, determinare:

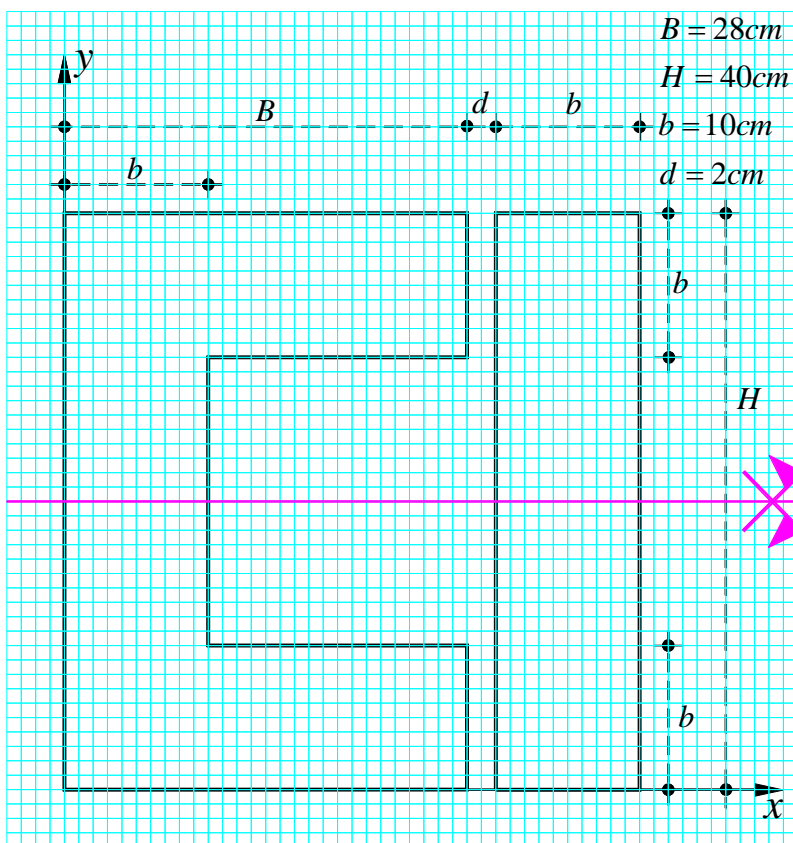
- gli assi principali centrali di inerzia;
- l'ellisse principale centrale di inerzia;
- il nocciolo centrale di inerzia.



1. Determinazione del baricentro della sezione

La sezione in esame presenta un asse di simmetria orizzontale, pertanto il baricentro si trova lungo tale asse. Con riferimento al sistema (x, y) indicato in Figura, la coordinata y_G del baricentro viene immediatamente determinata essendo pari a:

$$y_G = \frac{H}{2} = \frac{40}{2} = 20 \text{ cm}$$



Per definire la coordinata x_G bisogna calcolare il momento statico S_y rispetto all'asse y .

A tal fine è opportuno considerare la sezione come costituita da tre rettangoli, uno di lati $b = 10\text{cm}$ e $H = 40\text{cm}$, il secondo di lati $B = 28\text{cm}$ e $H = 40\text{cm}$, cui bisogna sottrarre il terzo rettangolo di lati $B - b = 18\text{cm}$ e $H - 2b = 20\text{cm}$. Si procede quindi all'individuazione del baricentro e al calcolo dell'area per ciascuno dei rettangoli:

Rettangolo I

$$A^I = b \cdot H = 10 \cdot 40 = 400 \text{ cm}^2$$

$$\begin{cases} x_G^I = B + d + \frac{b}{2} = 28 + 2 + \frac{10}{2} = 35 \text{ cm} \\ y_G^I = \frac{H}{2} = \frac{40}{2} = 20 \text{ cm} \end{cases}$$

Rettangolo II

$$A^{II} = B \cdot H = 40 \cdot 28 = 1120 \text{ cm}^2$$

$$\begin{cases} x_G^{II} = \frac{B}{2} = \frac{28}{2} = 14 \text{ cm} \\ y_G^{II} = \frac{H}{2} = \frac{40}{2} = 20 \text{ cm} \end{cases}$$

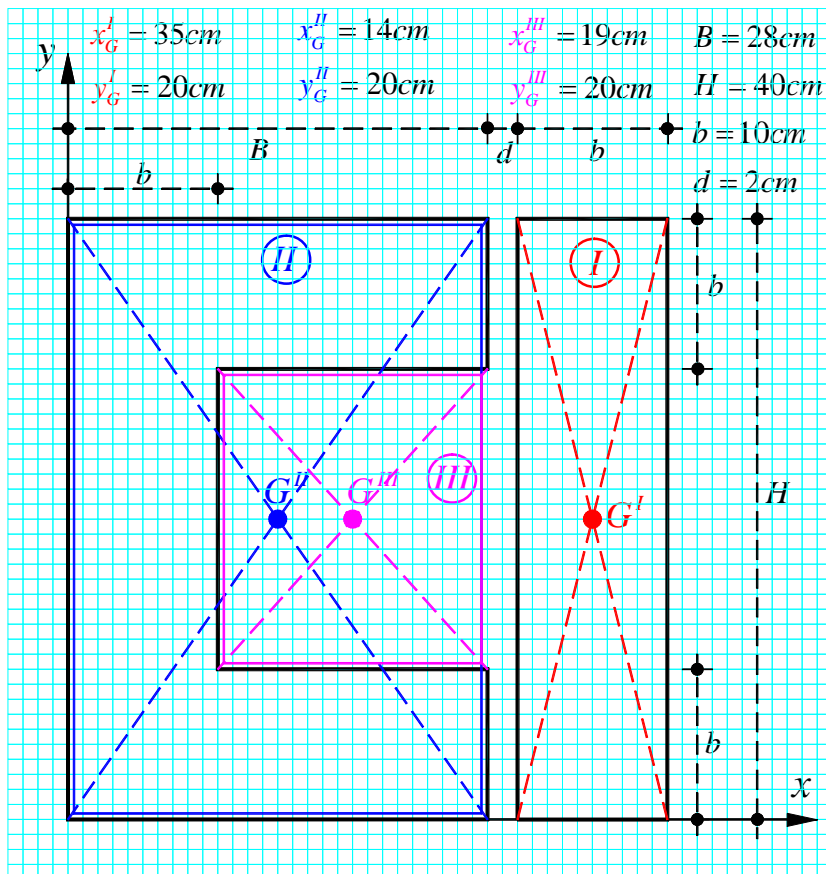
Rettangolo III

$$A^{III} = (B - b) \cdot (H - 2b) = (28 - 10) \cdot (40 - 20) = 360 \text{ cm}^2$$

$$\begin{cases} x_G^{III} = b + \frac{B - b}{2} = 10 + \frac{28 - 10}{2} = 19 \text{ cm} \\ y_G^{III} = b + \frac{H - 2b}{2} = 10 + \frac{40 - 20}{2} = 20 \text{ cm} \end{cases}$$

L'area complessiva della sezione è ovviamente pari a:

$$A = A^I + A^{II} - A^{III} = 400 + 1120 - 360 = 1160 \text{ cm}^2$$



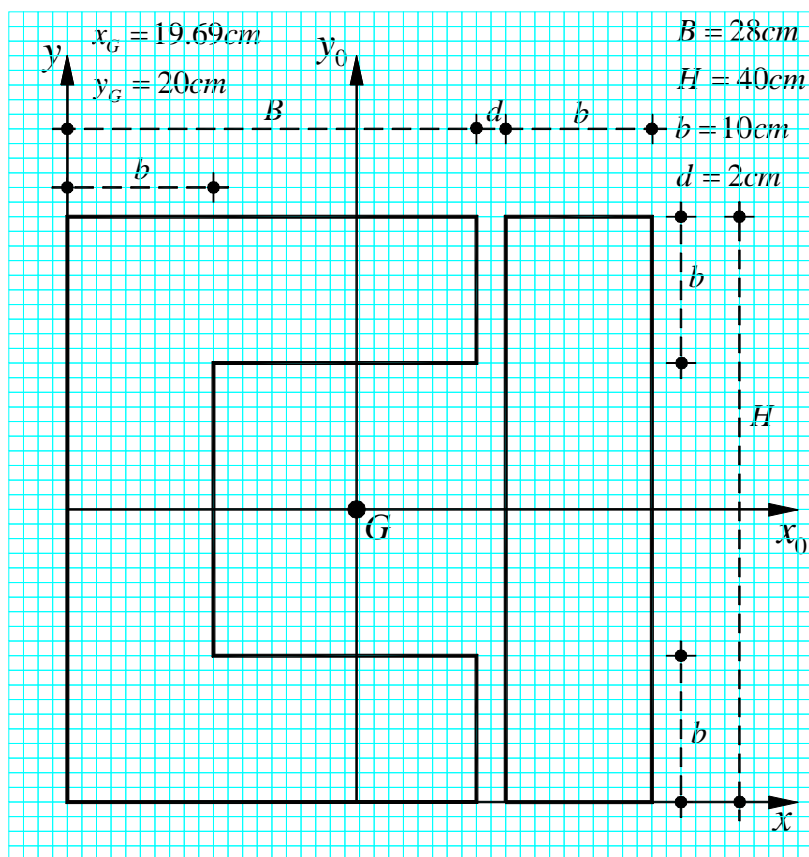
Si calcola quindi il momento statico della sezione rispetto all' asse y e ciò sfruttando la proprietà additiva del momento statico:

Momento statico S_y rispetto all'asse y :

$$S_y = S_y^I + S_y^{II} - S_y^{III} = A^I x_G^I + A^{II} x_G^{II} - A^{III} x_G^{III} = 400 \cdot 35 + 1120 \cdot 14 - 360 \cdot 19 = 22840 \text{ cm}^3$$

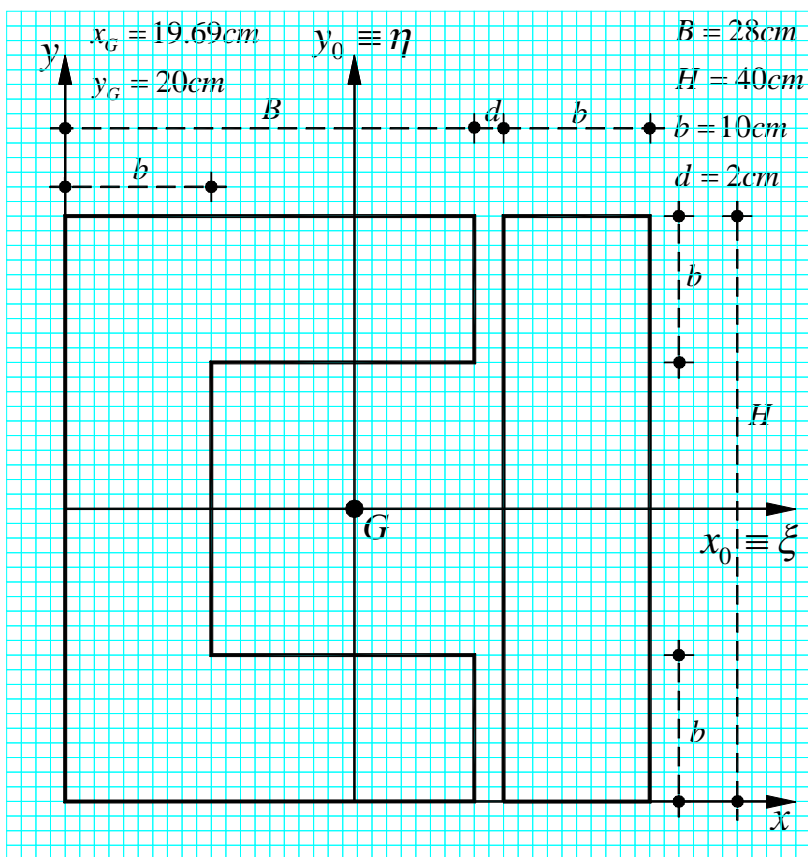
Si può infine determinare la posizione del baricentro della sezione nel riferimento (x, y) considerato applicando le formule di seguito riportate ed esplicitate numericamente per il caso in esame, risulta:

$$x_G = \frac{S_y}{A} = \frac{22840 \text{ cm}^3}{1160 \text{ cm}^2} = 19.69 \text{ cm}, \quad y_G = \frac{H}{2} = \frac{40}{2} = 20 \text{ cm}$$



2. Determinazione degli assi principali centrali di inerzia

Nota la posizione del baricentro della sezione nel riferimento (x, y) , gli assi baricentrici x_0 e y_0 sono anche assi principali centrali di inerzia per la sezione in esame. Rispetto a tali assi infatti il momento di inerzia centrifugo risulta essere nullo, cioè $I_{x_0 y_0} = 0$. Si ricorda infatti che se una sezione possiede un asse di simmetria esso risulta essere asse principale centrale di inerzia, come pure l'asse ad esso ortogonale e passante per il baricentro. Di seguito gli assi principali centrali di inerzia saranno indicati con le lettere greche ξ ed η , come specificato in Figura.



3. Determinazione dell'ellisse centrale di inerzia

L'ellisse centrale di inerzia, riferita agli assi principali centrali di inerzia ξ e η , ha equazione:

$$\frac{\xi^2}{\rho_\eta^2} + \frac{\eta^2}{\rho_\xi^2} = 1$$

nella quale ρ_ξ e ρ_η sono i semiassi dell'ellisse che coincidono, com'è noto, con i raggi giroatori di inerzia della sezione espressi da:

$$\rho_\xi = \sqrt{\frac{I_\xi}{A}}, \quad \rho_\eta = \sqrt{\frac{I_\eta}{A}}.$$

Nelle relazioni precedenti: A è l'area totale della sezione in esame; I_ξ e I_η sono i momenti principali centrali di inerzia della sezione che, nel caso in esame, coincidono con i momenti del secondo ordine I_{x_0} e I_{y_0} rispetto agli assi x_0 e y_0 .

3.1 Calcolo del momento principale centrale di inerzia della sezione rispetto all'asse ξ

Il calcolo dei momenti del secondo ordine I_ξ e I_η è effettuato avvalendosi della proprietà additiva per i momenti del secondo ordine, sfruttando la scomposizione in tre rettangoli operata in precedenza e applicando, ove necessario, il teorema del trasporto.

Il momento di inerzia della sezione rispetto all'asse $\xi \equiv x_0$ è dato dalla somma dei momenti di inerzia rispetto all'asse ξ dei rettangoli I e II , cui va sottratto il momento di inerzia del rettangolo III rispetto allo stesso asse, cioè:

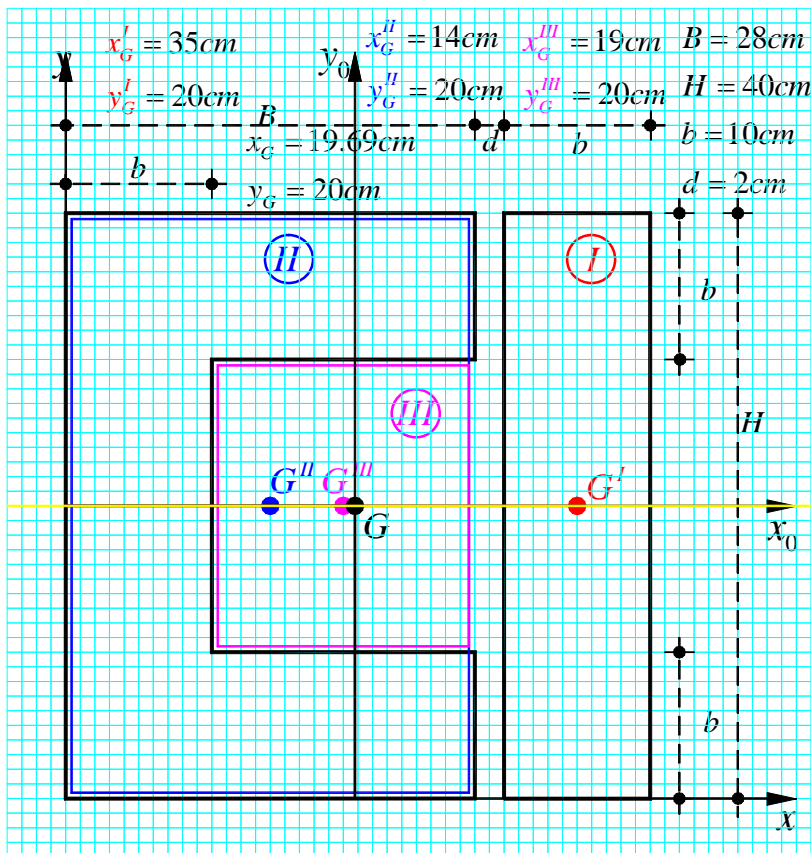
$$I_\xi = I_\xi^I + I_\xi^{II} - I_\xi^{III}$$

Per la valutazione di I_{ξ}^I, I_{ξ}^II e I_{ξ}^{III} non occorre applicare il teorema del trasporto, essendo l'asse ξ baricentrico per tutti e tre i rettangoli considerati. Risulta pertanto:

$$I_{\xi}^I = \frac{1}{12} b H^3 = \frac{1}{12} (10 \cdot 40^3) = 53333.33 \text{ cm}^4$$

$$I_{\xi}^{II} = \frac{1}{12} B H^3 = \frac{1}{12} (28 \cdot 40^3) = 149333.33 \text{ cm}^4$$

$$I_{\xi}^{III} = \frac{1}{12} (B-b)(H-2b)^3 = \frac{1}{12} (18 \cdot 20^3) = 12000 \text{ cm}^4$$



Si ha in definitiva: $I_{\xi} = I_{\xi}^I + I_{\xi}^{II} - I_{\xi}^{III} = 53333.33 + 149333.33 - 12000 = 190666.66 \text{ cm}^4$

3.2 Calcolo del momento principale centrale di inerzia della sezione rispetto all'asse η

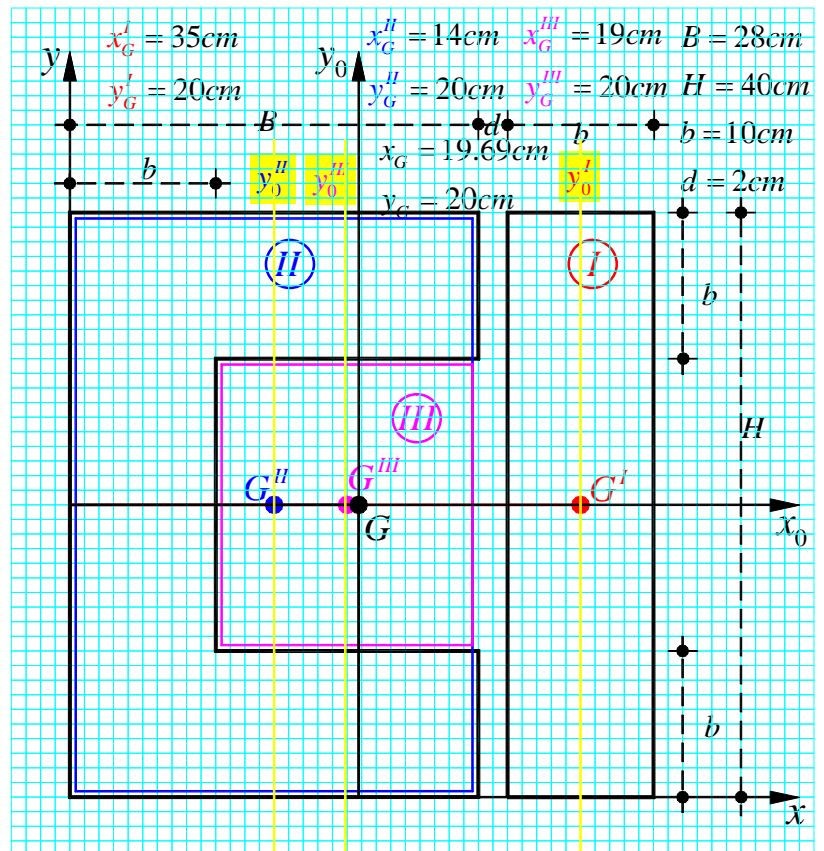
Il momento di inerzia della sezione rispetto all'asse $\eta \equiv y_0$ è dato dalla somma dei momenti di inerzia rispetto all'asse η dei singoli rettangoli I e II , cui va sottratto il momento di inerzia del rettangolo III valutato rispetto allo stesso asse, cioè:

$$I_\eta = I_\eta^I + I_\eta^{II} - I_\eta^{III}$$

Per la valutazione di I_η^I , I_η^{II} e I_η^{III} si applica il teorema del trasporto; nel seguito $I_{y_0^I}^I$ indica il momento di inerzia del rettangolo I rispetto ad un asse y_0^I parallelo all'asse η e passante per il baricentro G^I , analogamente $I_{y_0^{II}}^{II}$ indica il momento di inerzia del rettangolo II rispetto ad un asse y_0^{II} parallelo all'asse η e passante per il baricentro G^{II} e infine $I_{y_0^{III}}^{III}$ indica il momento di inerzia del rettangolo III rispetto ad un asse y_0^{III} parallelo all'asse η e passante per il baricentro G^{III} .

$$\begin{aligned} I_\eta^I &= I_{y_0^I}^I + A^I (x_G^I - x_G)^2 = \\ &= \frac{1}{12} H b^3 + (bH) (x_G^I - x_G)^2 = \\ &= \frac{1}{12} (40 \cdot 10^3) + (10 \cdot 40) (35 - 19.69)^2 = \\ &= 97091.77 \text{ cm}^4 \end{aligned}$$

$$\begin{aligned} I_\eta^{II} &= I_{y_0^{II}}^{II} + A^{II} (x_G^{II} - x_G)^2 = \\ &= \frac{1}{12} H \cdot B^3 + (BH) (x_G^{II} - x_G)^2 = \\ &= \frac{1}{12} (40 \cdot 28^3) + (28 \cdot 40) (14 - 19.69)^2 = \\ &= 109434.56 \text{ cm}^4 \end{aligned}$$



$$\begin{aligned}
 I_{y_0}^{III} &= I_{y_0}^{III} + A^{III} (x_G^{III} - x_G)^2 = \\
 &= \frac{1}{12}(H - 2b)(B - b)^3 + [(H - 2b)(B - b)](x_G^{III} - x_G)^2 = \\
 &= \frac{1}{12}(20 \cdot 18^3) + (20 \cdot 18)(19 - 19.69)^2 = \\
 &= 9891.40 \text{ cm}^4
 \end{aligned}$$

Si ha in definitiva: $I_\eta = I_\eta^I + I_\eta^{II} - I_\eta^{III} = 97091.77 + 109434.56 - 9891.40 = 196634.93 \text{ cm}^4$.

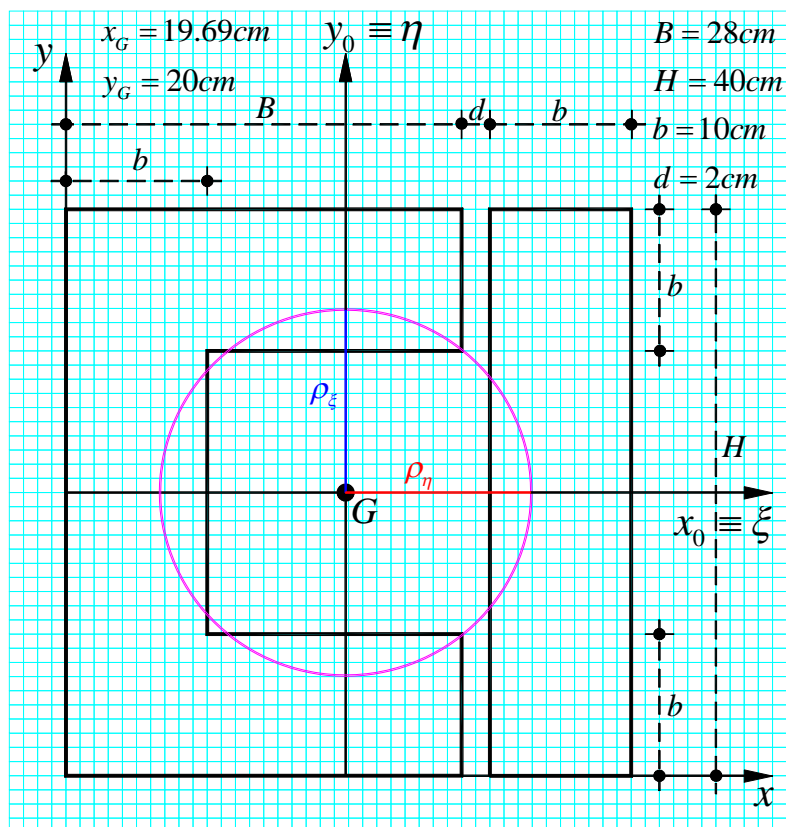
3.3 Ellisse centrale di inerzia

Noti I_ξ e I_η , si possono in definitiva calcolare i raggi giratori di inerzia, si ha:

$$\rho_\xi = \sqrt{\frac{I_\xi}{A}} = \sqrt{\frac{190666.66}{1160}} = 12.82 \text{ cm}, \quad \rho_\eta = \sqrt{\frac{I_\eta}{A}} = \sqrt{\frac{196634.93}{1160}} = 13.02 \text{ cm}.$$

Questi ultimi definiscono l'equazione dell'ellisse centrale di inerzia nel riferimento principale (ξ, η) permettendone così la sua individuazione (effettuabile per punti ad esempio) così come

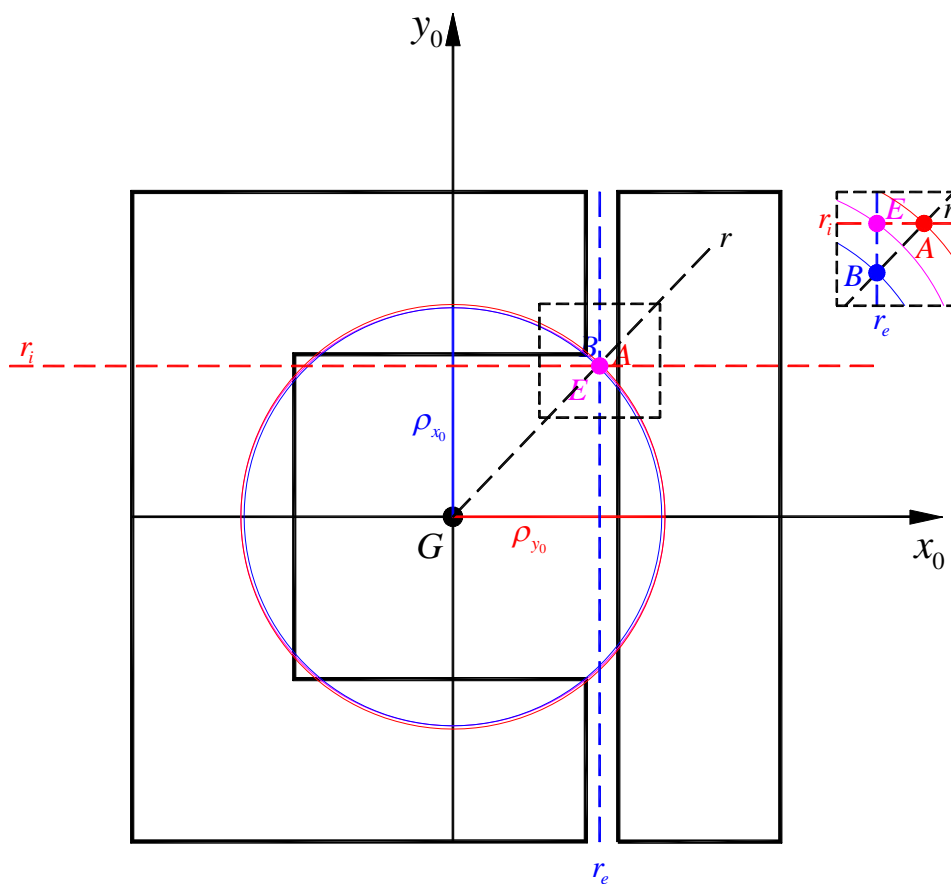
indicato in Figura.



L'individuazione dell'ellisse, noti i semiassi $\rho_\xi \equiv \rho_{x_0}$ e $\rho_\eta \equiv \rho_{y_0}$, può condursi anche sfruttando una semplice costruzione grafica di seguito illustrata e riportata schematicamente nella Figura seguente.

Costruzione grafica di un'ellisse noti che siano i suoi semiassi

1. Tracciare i semiassi dell'ellisse e le circonferenze di centro G aventi per raggi i semiassi stessi;
2. Tracciata per G la generica semiretta r , condurre dalla sua intersezione A con la circonferenza interna la retta r_i parallela al semiasse maggiore, e dall'intersezione B con la circonferenza esterna la retta r_e parallela al semiasse minore;
3. Il punto E intersezione di r_i e r_e è punto dell'ellisse;
4. Ripetere la costruzione per un numero di punti sufficiente alla costruzione dell'ellisse.



4. Determinazione del nocciolo centrale di inerzia

Il nocciolo centrale di inerzia di una figura piana è il luogo dei centri relativi delle rette del piano che non tagliano la figura o, nella polarità d'inerzia di centro il baricentro G della figura (polarità esistente tra le rette del piano e i simmetrici rispetto a G dei loro centri relativi), il nocciolo centrale di inerzia è il luogo degli antipoli delle rette del piano che non tagliano la figura. Il nocciolo è qui di seguito individuato attraverso la costruzione del suo contorno e ciò, in particolare, attraverso la determinazione della posizione dei vertici dello stesso, determinati come antipoli delle rette tangenti alla frontiera (o contorno) della figura resa convessa. Il contorno del nocciolo centrale di inerzia della sezione in esame è quindi una figura a 4 vertici ciascuno dei quali rappresenta l'antipolo di una delle tangenti al contorno della sezione resa convessa.

4.1 Metodo analitico

Le coordinate dei vertici R_i ($i=1,2,3,4$) del nocciolo centrale di inerzia possono essere calcolate nel riferimento ortogonale (x_0, y_0) prima considerato previa determinazione, nello stesso riferimento, delle equazioni delle rette r_i ($i=1,2,3,4$) tangenti al contorno della figura resa convessa. Nota infatti l'equazione di una retta nel riferimento (x_0, y_0) , nella forma $ax + by + 1 = 0$, dove x e y sono da intendersi valutate nel riferimento (x_0, y_0) e il pedice 0 è omissso per comodità, il suo antipolo, nello stesso riferimento, ha coordinate $P \equiv (x_p, y_p)$ fornite da:

$$x_p = (a I_{y_0} + b I_{x_0 y_0}) / A; \quad y_p = (a I_{x_0 y_0} + b I_{x_0}) / A$$

nelle quali compaiono, oltre ai coefficienti a e b dell'equazione della retta considerata, l'area A della sezione e i momenti del secondo ordine della stessa sezione rispetto al riferimento (x_0, y_0) valutati in precedenza.

In particolare: per rette di equazione $y = -1/b$, cioè parallele all'asse x_0 , ponendo per semplicità $q = -1/b$, dalle precedenti risulta:

$$x_p = -\frac{I_{x_0 y_0}}{qA}; \quad y_p = -\frac{I_{x_0}}{qA}$$

per rette di equazione $x = -1/a$, quindi parallele all'asse y_0 , ponendo $q^* = -1/a$ si ha invece:

$$x_p = -\frac{I_{y_0}}{q^* A}; \quad y_p = -\frac{I_{x_0}}{q^* A}$$

Con riferimento alla Figura, le rette tangenti al contorno della sezione resa convessa hanno, nel riferimento (x_0, y_0) , le seguenti equazioni:

retta r_1 (parallela all'asse x_0): $y = H - y_G = 20$;

retta r_2 (parallela all'asse y_0): $x = -x_G = -19.69$;

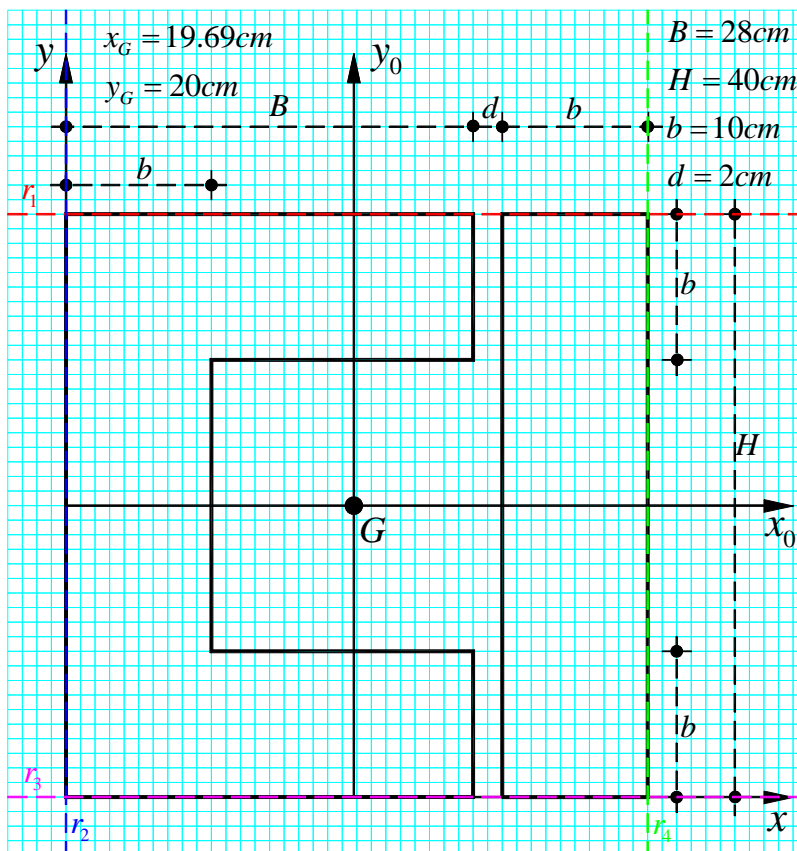
retta r_3 (parallela all'asse x_0): $y = -y_G = -20$;

retta r_4 (parallela all'asse y_0): $x = B + d + b - x_G = 20.31$.

Riepilogando, nel riferimento (x_0, y_0) ,

le rette tangenti alla figura resa convessa hanno equazioni:

$$\begin{cases} r_1 : y = 20 \\ r_2 : x = -19.69 \\ r_3 : y = -20 \\ r_4 : x = 20.31 \end{cases}$$



Applicando le formule prima richiamate, si possono quindi calcolare le coordinate dei vertici R_1 , R_2 , R_3 e R_4 , antipoli rispettivamente delle rette r_1 , r_2 , r_3 e r_4 . Si calcola:

coordinate punto R_1 (antipolo della retta r_1 di equazione $y = 20$, parallela all'asse x_0):

$$x_{R_1} = -\frac{I_{x_0 y_0}}{qA} = 0 \text{ cm}; \quad y_{R_1} = -\frac{I_{x_0}}{qA} = -\frac{190666.66}{20 \cdot 1160} = -8.22 \text{ cm};$$

coordinate punto R_2 (antipolo della retta r_2 di equazione $x = -19.69$, parallela all'asse y_0):

$$x_{R_2} = -\frac{I_{y_0}}{q^*A} = -\frac{196634.93}{(-19.69) \cdot 1160} = 8.61 \text{ cm}; \quad y_{R_2} = -\frac{I_{x_0 y_0}}{q^*A} = 0 \text{ cm};$$

coordinate punto R_3 (antipolo della retta r_3 di equazione $y = -20$, parallela all'asse x_0):

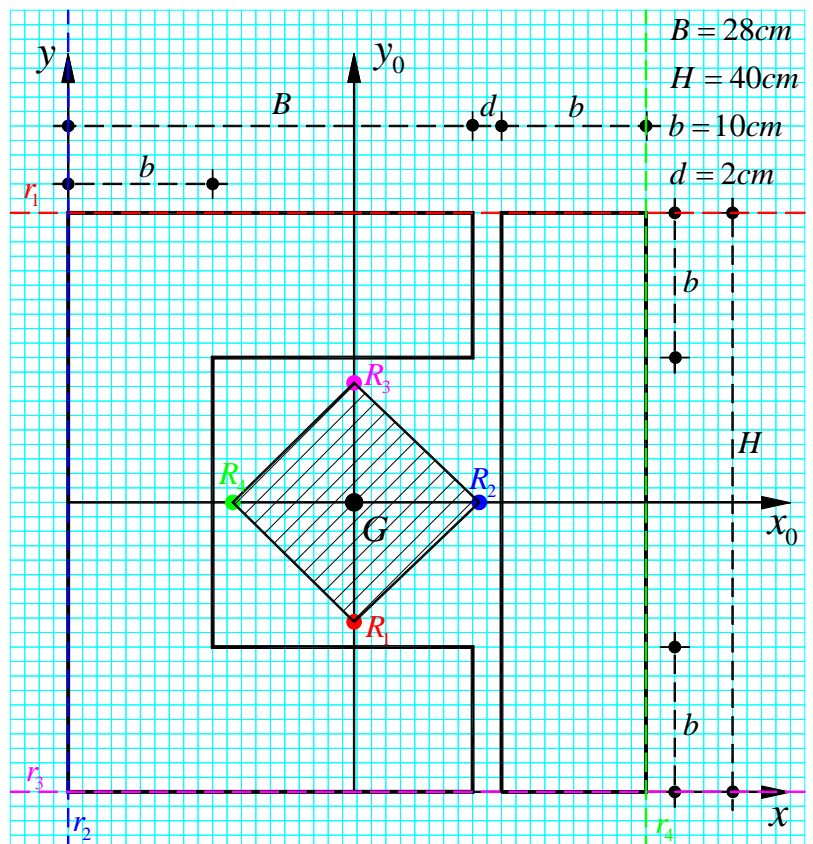
$$x_{R_3} = -\frac{I_{x_0 y_0}}{qA} = 0 \text{ cm}; \quad y_{R_3} = -\frac{I_{x_0}}{qA} = -\frac{190666.66}{(-20) \cdot 1160} = 8.22 \text{ cm};$$

coordinate punto R_4 (antipolo della retta r_4 di equazione $x = 20.31$, parallela all'asse y_0):

$$x_{R_4} = -\frac{I_{y_0}}{q^*A} = -\frac{196634.93}{20.31 \cdot 1160} = -8.35 \text{ cm}; \quad y_{R_4} = -\frac{I_{x_0 y_0}}{q^*A} = 0 \text{ cm}.$$

Unendo i punti R_i così individuati si ottiene il contorno, e quindi il nocciolo centrale di inerzia della sezione in esame, come illustrato in Figura. Si ricorda che i lati del nocciolo sono le antipolari dei vertici.

Si osserva inoltre che data la simmetria della sezione rispetto all'asse x_0 , ai fini della individuazione del contorno del nocciolo, è sufficiente determinare le coordinate di tre vertici, ad esempio R_1, R_2 ed R_4 essendo R_3 il punto simmetrico di R_1 rispetto all'asse x_0 .



4.2 Metodo grafico

In alternativa alla procedura analitica prima esposta, di seguito si propone un metodo grafico per l'individuazione dei vertici del nocciolo centrale d'inerzia. Il metodo è riportato in sintesi, per passi operativi sequenziali e relativamente alla determinazione di un solo vertice del nocciolo della sezione in esame, essendo la costruzione grafica facilmente ripetibile per i restanti vertici. La costruzione è quella che consente, data una figura piana della quale si sia determinata l'ellisse centrale d'inerzia, di individuare l'antipolo R di una qualsiasi retta r del piano. Essa si basa su una relazione notevole della polarità d'inerzia di centro G , nota come relazione di coniugio, espressa da:

$$\rho_{r_0}^2 = \overline{GR} \cdot \overline{GR'}$$

nella quale:

r_0 è la retta parallela ad r e passante per il baricentro G della figura;

ρ_{r_0} è il raggio giratore d'inerzia rispetto a r_0 , definito dal semidiametro dell'ellisse appartenente alla direzione r^* coniugata ad r ;

R è l'antipolo della retta r ;

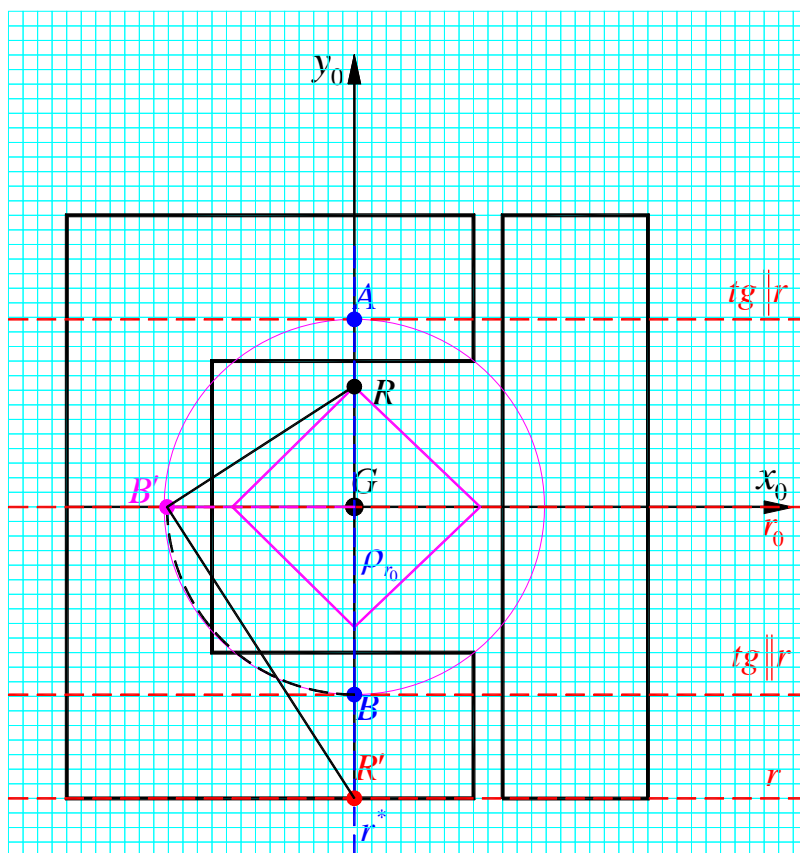
R' è il coniugato di R ;

\overline{GR} e $\overline{GR'}$ individuano i segmenti rispetto ai quali ρ_{r_0} è medio proporzionale, come stabilito dalla relazione di coniugio.

Si rimanda ai libri di testo consigliati per i fondamenti teorici sui quali si basa la costruzione proposta.

Con riferimento alla Figura, i passi operativi della costruzione proposta sono:

- #1 Nota l'ellisse centrale di inerzia e fissata la tangente r , della quale si vuole individuare l'antipolo R , si tracciano le tangenti all'ellisse parallele a r , individuando così i punti di tangenza A e B ;
- #2 La retta passante per i punti di tangenza A e B è la direzione r^* coniugata ad r , la sua intersezione con r è il punto R' , coniugato di R ; il raggio giratore ρ_{r_0} coincide con il semidiametro \overline{GB} (o \overline{GA});
- #3 Si ruota \overline{GB} di 90° si da disporlo sull'ortogonale per G alla direzione coniugata r^* , sia $\overline{GB'}$ il segmento così ottenuto;
- #4 Si unisce R' con B' e si conduce per B' l'ortogonale a $\overline{R'B'}$ sino ad intersecare la direzione coniugata r^* in R , antipolo della retta r considerata e vertice del nocciolo centrale di inerzia della sezione.



Ripetendo la costruzione per le altre 3 tangenti alla figura resa convessa si individua in modo completo il nocciolo centrale di inerzia della sezione.